



NOMBRE: \_\_\_\_\_

CURSO: \_\_\_\_\_

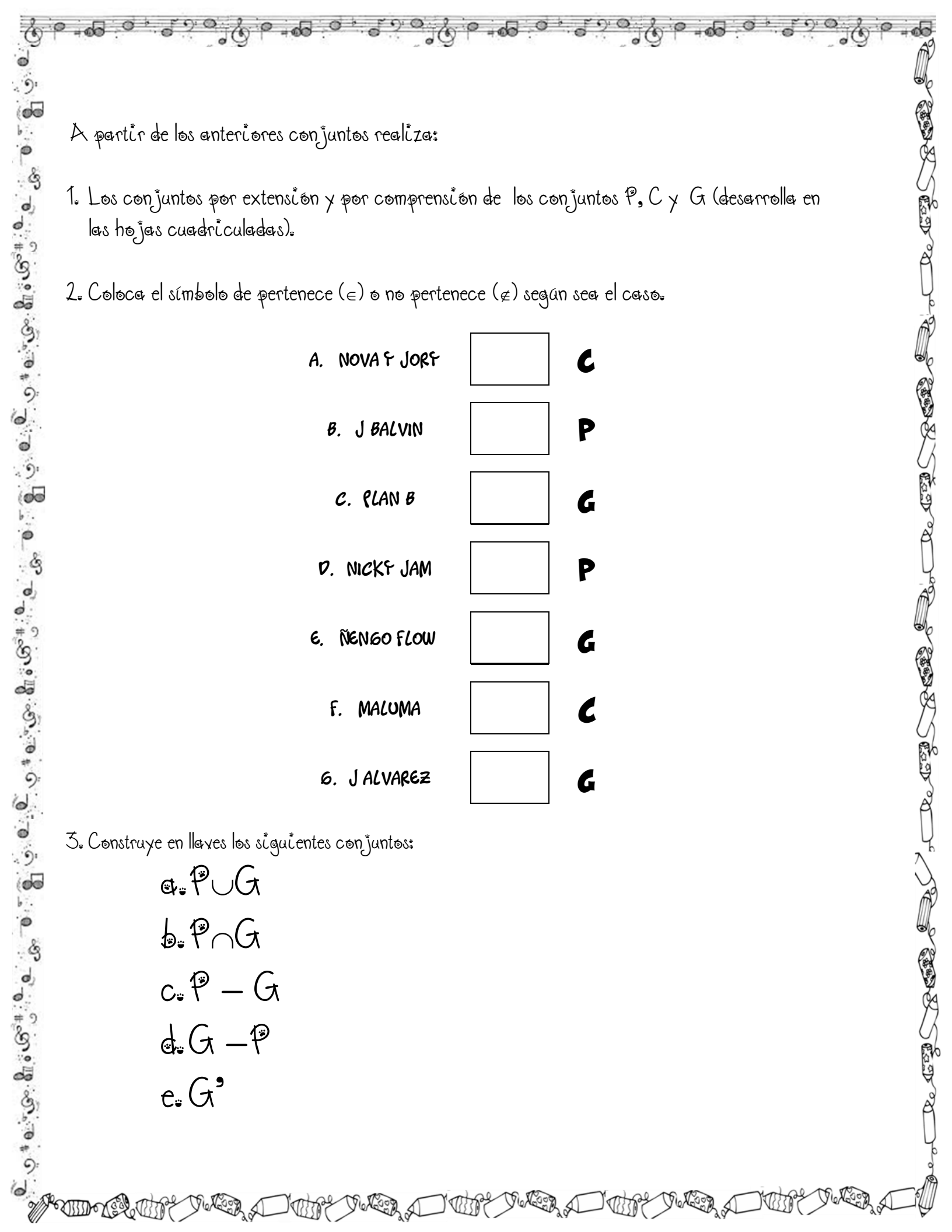
P

C



G





A partir de los anteriores conjuntos realiza:

1. Los conjuntos por extensión y por comprensión de los conjuntos P, C y G (desarrolla en las hojas cuadrículadas).
2. Coloca el símbolo de pertenece ( $\in$ ) o no pertenece ( $\notin$ ) según sea el caso.

A. NOVA Y JORY	<input type="checkbox"/>	<b>C</b>
B. J BALVIN	<input type="checkbox"/>	<b>P</b>
C. PLAN B	<input type="checkbox"/>	<b>G</b>
D. NICK Y JAM	<input type="checkbox"/>	<b>P</b>
E. NENGO FLOW	<input type="checkbox"/>	<b>G</b>
F. MALUMA	<input type="checkbox"/>	<b>C</b>
G. J ALVAREZ	<input type="checkbox"/>	<b>G</b>

3. Construye en llaves los siguientes conjuntos:

a.  $P \cup G$

b.  $P \cap G$

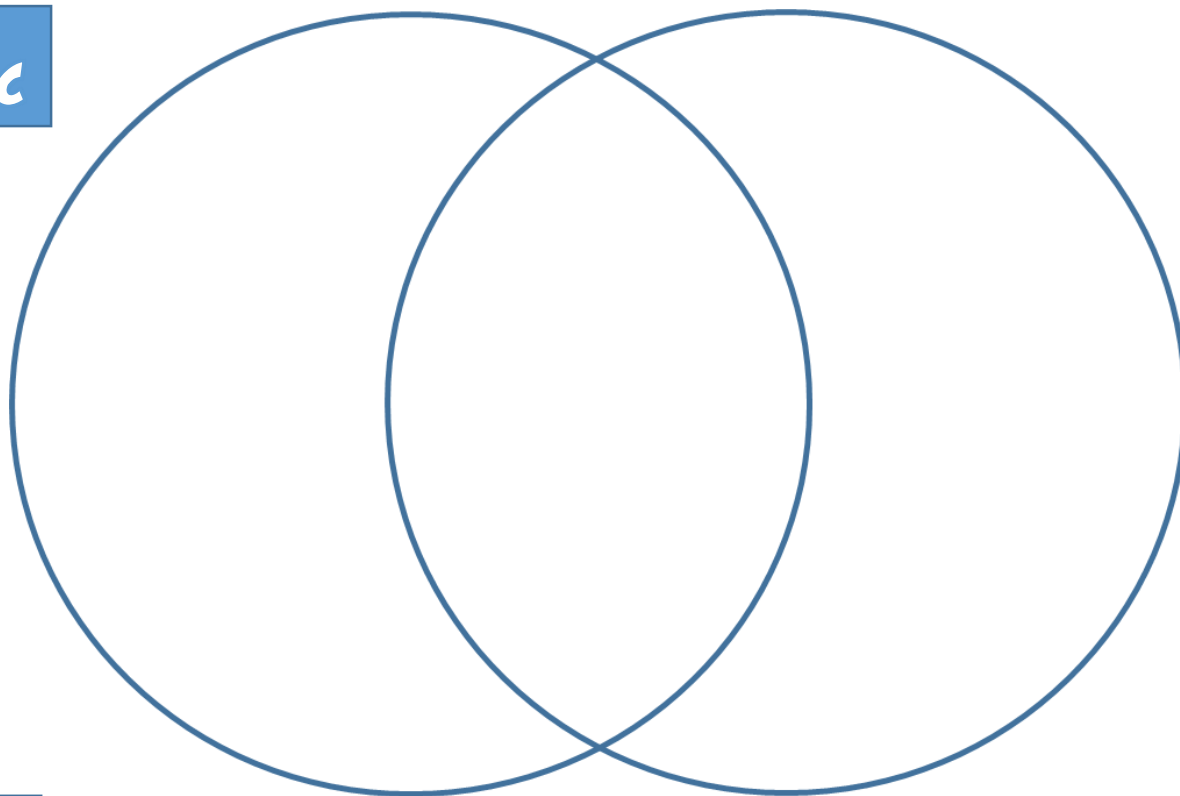
c.  $P - G$

d.  $G - P$


e.  $G'$

4. Recorta las imágenes y pégalas dentro de los conjuntos de tal forma que se cumplan las siguientes operaciones:

$P \cap C$



$P - C$



$C - P$

