

INSTITUCIÓN EDUCATIVA DIVERSIFICADO DE CHÍA
ACTIVIDAD DE MATEMÁTICAS 1
NÚMEROS ENTEROS
GRADO SEPTIMO
PROFESORA: INGRID CARDOZO




NOMBRE: _____


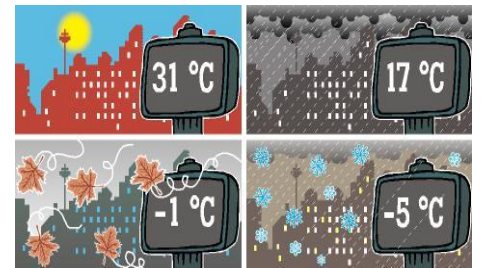
CURSO: _____

Soluciona las siguientes actividades con las nociones adquiridas sobre números enteros.

1. Relaciona con segmentos de colores la situación y su correcta representación en el conjunto Z.



Las temperaturas en las diferentes estaciones en Nueva York son: en verano 31, primavera 11, otoño 1 grado bajo cero e invierno 5 grados bajo cero.




Entra al banco y se
apodera de
€1.000.



+11.000

Un buzo va nadando a 1245 de
profundidad en el mar.

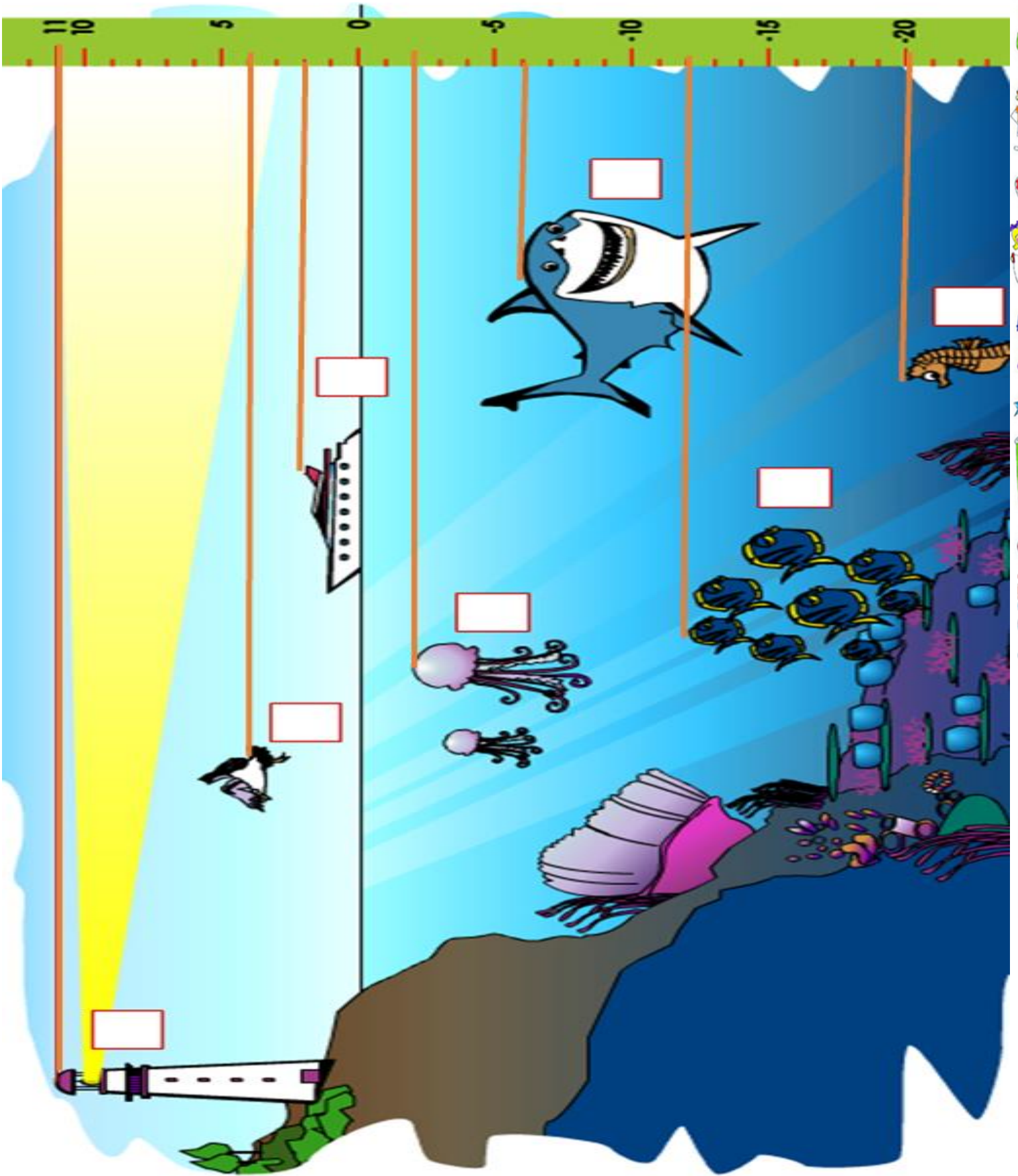


+350

Alicia va a la calle 34
sur a la casa de la abuela.



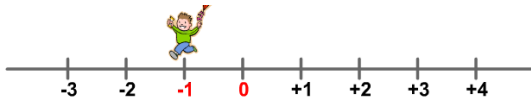
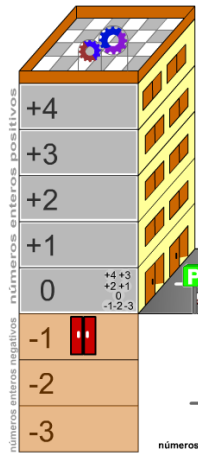
2. Coloca el número entero correspondiente de altura o profundidad según corresponda:



3. Teniendo en cuenta las situaciones del punto 1 en hojas cuadrículadas coloca la situación y representación opuesta a la dada.

4. Recorta y pega el ascensor y la recta numérica que represente óptimamente la situación propuesta. (sigue el ejemplo)

Camilo va al primer sótano.



Camilo visita el tercer piso.

Camilo se dirige a la planta baja.

Camilo sube al segundo piso.

Camilo visita el primer piso.

Camilo baja al tercer sótano.

Camilo sube al cuarto piso.

Camilo va al segundo sótano.

5. Representa una situación diferente a las expuestas anteriormente, en la que uses la recta numérica.

