

INSTITUCIÓN EDUCATIVA DIVERSIFICADO DE CHÍA

ACTIVIDAD DE MATEMÁTICAS 3

ORDEN DE LOS NÚMEROS ENTEROS

GRADO SEPTIMO

PROFESORA: INGRID CARDOZO




**NOMBRE:** \_\_\_\_\_

**CURSO:** \_\_\_\_\_


Según las actividades realizadas online soluciona:

1. A partir de las temperaturas presentadas en el programa del clima: (soluciona en las hojas del portafolio).



- A. Representa en una recta numérica cada una de las temperaturas.
- B. ¿Cuál es el país donde hace más frío?
- C. Ordena las temperaturas de la menos fría a la más fría.

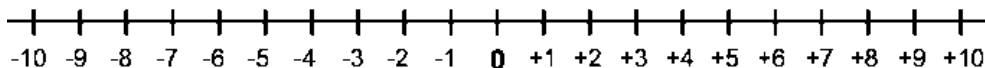
2. Coloca el símbolo correspondiente entre cada número (<, >)



3. Representa en la recta numérica y ubica los números de cada recuadro:

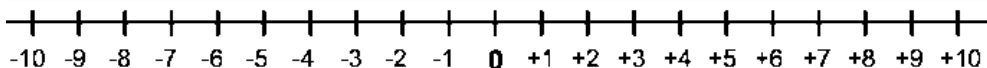
$$\square > \square > \square$$

|    |    |
|----|----|
| -3 | +2 |
| -6 |    |



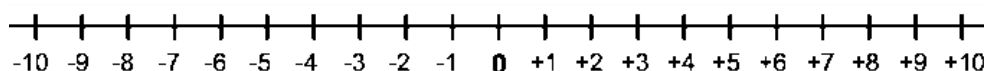
$$\square > \square > \square$$

|    |    |
|----|----|
| +4 | -2 |
| -5 |    |

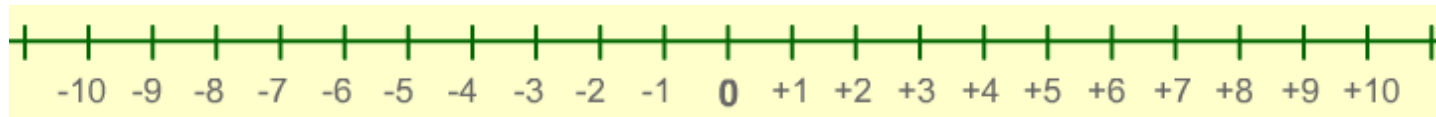


$$\square > \square > \square$$

|     |    |
|-----|----|
| -5  | -9 |
| -10 |    |



4. Representa cada pareja de puntos y luego escríbelas en las hojas cuadrículadas y colócales el símbolo  $<$ ,  $>$  según corresponda.



**-1 y +4**

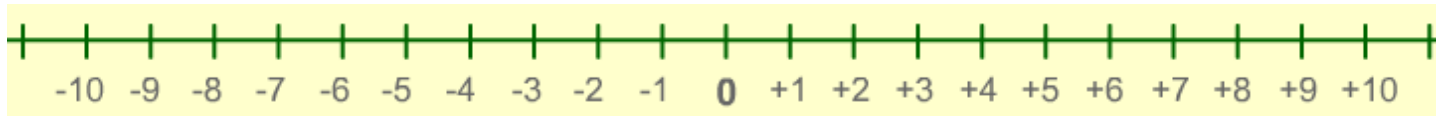


**NARANJA**

**-9 y -5**



**VERDE OSCURO**



**+5 y -1**

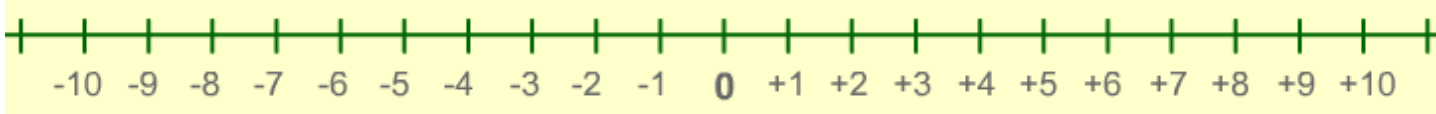


**AZUL**

**-3 y -7**



**ROSADO**



**-6 y +4**

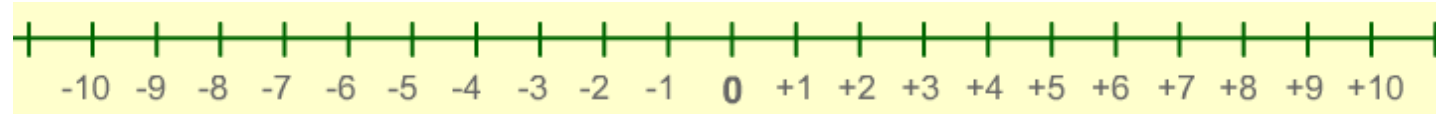


**VERDE CLARO**

**-1 y -9**



**AMARILLO**



**-1 y -5**



**ROJO**

**-5 y +2**



**GRIS**