



INSTITUCION EDUCATIVA DIVERSIFICADO DE CHIA

ACTIVIDAD DE MATEMATICAS 1

LOGICA

GRADO SEXTO

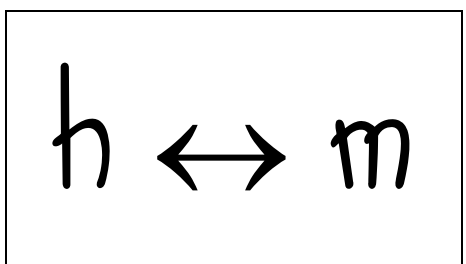

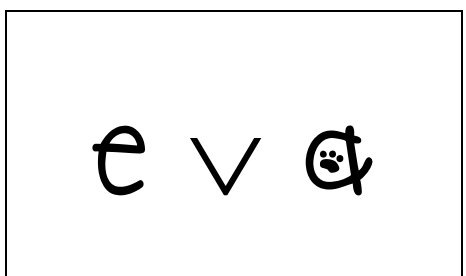

PROFESORA: INGRID CARDOZO



NOMBRE: _____


CURSO: _____

I. Relaciona con líneas de colores la proposición compuesta con sus símbolos y en las hojas cuadriculadas escribe las proposiciones simples:





II. Recorta las fichas de la siguiente hoja y pégalas en el cuadro en la respuesta correspondiente de tal forma que se complete las frases.



1. La _____ es la ciencia que estudia el razonamiento.
2. $\forall x: \exists Dd$ es el mejor ___ gana todos los partidos.
3. \wedge este símbolo representa la _____
4. $c _ _ _ t$: Coyote compra artefactos ACME entonces persigue al correcaminos.
5. _____ Taz es un demonio de Tasmania.
6. No, y, o, entonces con si solo si son _____ lógicos.
7. Las proposiciones _____ son las que unidas a través de conectores lógicos.
8. Persona je que ayuda en todo lo relacionado a la logica matemática _____
9. La _____ es una oración que tiene un valor de verdad.
10. $s \leftrightarrow e$: Silvestre persigue a piolín _____ se sale de la jaula.
11. Uno de los valores de verdad es falso (_____)
12. \rightarrow es el símbolo de la _____
13. Tienen _____ o más proposiciones simples formando así las compuestas.
14. b : Bugs Bunny es el novio de Lola Bunny (_____)
15. $e \vee r$: Marvin está en el espacio _____ en la tierra.



