


ACTIVIDAD DE GEOMETRIA 1

ESTADISTICA

GRADO SEXTO

PROFESORA: INGRID GARDOZO



NOMBRE: _____

CURSO: _____

I. LA SIGUIENTE IMAGEN FUE TOMADA EN LA GRANJA DE LA ABUELA.







De acuerdo a lo que observa en ella, complete la siguiente tabla:

Animal	Cantidad
Patos	
Gallinas	
Ovejas	
Caballos	
Vacas	



EN LAS HOJAS CUADRICULADAS CONSTRUYE UN DIAGRAMA DE BARRAS DE LOS ANIMALES DE LA ABUELA, EN EL QUE PLASMES SU TITULO, NOMBRE Y LA CANTIDAD QUE HAY DE ELLOS.

2. PLOLIN PREGUNTO CIERTO DIA A CADA UNO DE SUS AMIGOS DEL CURSO QUE TRAJÓ DE ONCES PARA EL RECESO. LOS RESULTADOS FUERON LOS SIGUIENTES.


 Manzana	
 Plátano	
 Sándwich	
 Galletas	



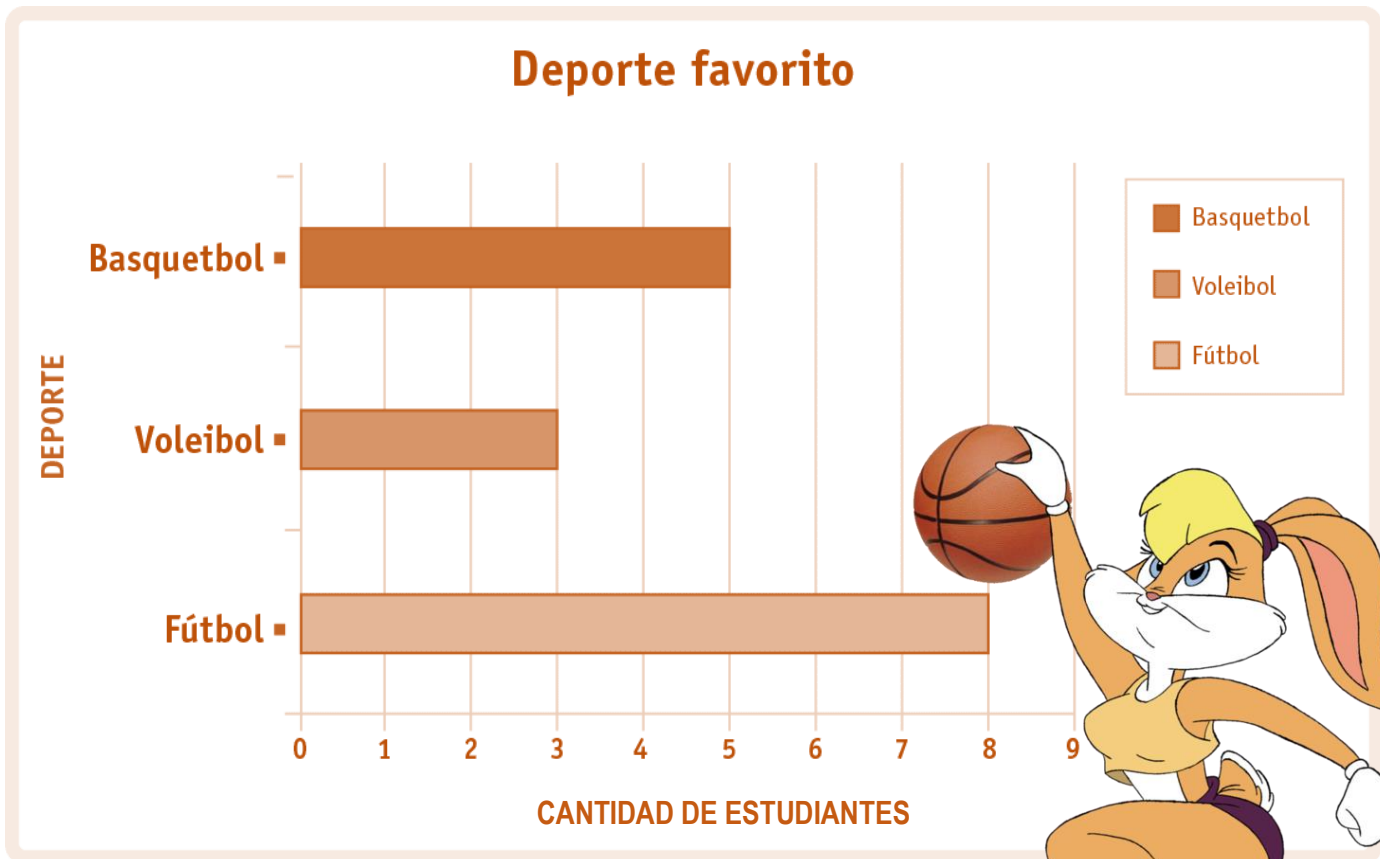
COMPLETA LA TABLA:

	CANTIDAD DE AMIGOS
PLATANO	
GALLETAS	
TOTAL	

CONSTRUYE UN DIAGRAMA DE BARRAS; LUEGO, ESCRIBE EL NOMBRE DE CADA EJE, CON UNA ESCALA CONVENIENTE Y EL TITULO DEL GRAFICO.



3. EN EL COLEGIO LOLA BUNNY ENCUESTO A UN GRUPO DE NIÑOS PREGUNTÁNDOLES CUAL ERA SU DEPORTE FAVORITO, LAS RESPUESTAS DE DICHA ENCUESTA SE ENCUENTRA REPRESENTADAS EN EL SIGUIENTE GRAFICO DE BARRAS:



SEGÚN EL GRÁFICO RESPONDA EN LAS HOJAS CUADRICULADAS:

- ¿CUÁL ES EL DEPORTE FAVORITO DE LOS NIÑOS? ¿POR QUÉ?
- ¿CUÁNTOS NIÑOS MÁS PREFIEREN EL BÁSQUETBOL QUE EL VOLEIBOL?
- ¿CUÁNTOS ALUMNOS FUERON ENCUESTADOS? JUSTIFIQUE.
- ¿CUÁL ES EL DEPORTE QUE MENOS PREFIEREN LOS ALUMNOS?