

INSTITUCIÓN EDUCATIVA DIVERSIFICADO DE CHÍA
ACTIVIDAD DE GEOMETRÍA 4
NOCIONES GEOMÉTRICAS



GRADO SEXTO
PROFESORA: INGRÍD CARDOZO

NOMBRE: _____

CURSO: _____

1. ENCUENTRA LAS PALABRAS EN LAS SORAS DE LETRAS QUE PROPONE MORDE PARA QUE ASÍ DESCUBRAS DE QUE SE TRATA LA ACTIVIDAD.

Ñ	T	X	K	E	G	O	T	Y	J	E	I	Ñ	V	L	V	W
K	R	T	J	G	Y	O	H	T	N	J	H	T	K	X	S	A
S	N	G	Y	Q	K	D	B	O	G	G	Y	P	L	S	I	G
S	O	I	H	V	X	A	C	L	S	Y	X	S	J	W	C	A
V	X	Q	G	E	S	L	N	V	L	J	K	M	L	A	H	W
G	Y	G	H	R	W	E	F	G	S	C	C	R	H	M	Ñ	D
L	F	P	W	T	A	Q	X	D	U	K	F	Ñ	D	P	H	E
M	D	J	G	I	M	D	Y	A	E	L	K	G	M	L	W	W
I	Ñ	F	N	C	Q	Q	O	P	G	Ñ	O	X	O	I	F	N
K	X	I	D	E	L	N	M	S	B	E	V	P	W	T	K	A
E	Q	K	J	S	W	J	N	S	N	Ñ	S	M	F	U	M	B
C	E	Q	A	T	M	L	S	J	W	C	B	I	X	D	C	T
V	W	G	F	C	T	O	I	T	I	V	I	Y	M	S	T	G
R	G	L	M	E	G	N	O	K	C	E	I	G	P	A	S	S
V	S	T	S	O	F	P	H	H	W	S	L	A	P	S	L	D
A	A	M	T	G	I	H	T	P	R	M	K	I	C	H	P	X
I	D	W	K	S	Q	F	J	Q	F	R	M	J	Y	F	R	Y

PALABRAS

ANGULO
 CONSECUTIVOS
 AMPLITUD
 COMPLEMENTARIOS
 VERTICE
 ADYACENTES
 GRADO
 LADO
 OQUESTOS
 SEXAGESIMAL
 SUPLEMENTARIOS

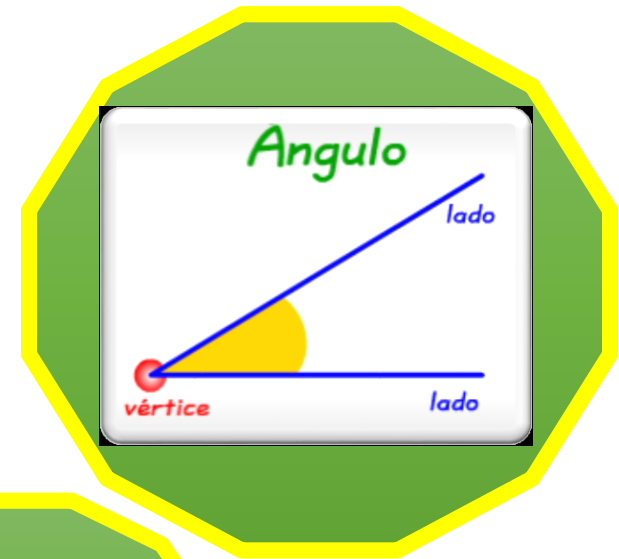
I	Y	Ñ	S	X	J	I	O	G	W	N	S	A	M	T	W	R
R	C	H	I	O	M	S	A	A	X	P	W	V	D	N	E	L
S	X	I	N	H	V	F	P	Ñ	B	V	J	D	X	K	B	V
S	O	I	N	X	E	I	P	P	A	G	A	A	F	D	D	N
X	F	T	B	M	H	D	T	N	S	S	Ñ	L	M	M	S	I
I	F	H	S	Q	E	W	J	U	J	K	I	W	V	E	E	J
S	X	P	E	E	B	T	G	R	C	I	L	I	V	K	T	B
A	G	P	M	M	U	F	G	Q	O	E	E	D	D	W	N	V
W	J	R	P	R	P	P	A	W	B	S	S	Ñ	H	W	E	F
C	A	B	P	K	V	G	O	E	E	R	F	N	G	S	C	S
E	W	M	F	Q	D	B	A	F	C	P	P	N	O	H	A	L
X	G	T	G	V	R	Ñ	Y	H	K	N	M	B	N	C	Y	M
N	Y	N	O	Y	K	J	T	P	N	Ñ	O	W	Q	T	D	S
N	J	Ñ	Y	X	D	E	N	Q	B	F	G	T	Ñ	D	A	X
S	O	I	R	A	T	N	E	M	E	L	P	M	O	C	A	T
L	H	Y	Ñ	Q	R	P	Ñ	S	Y	A	L	O	N	G	L	A
B	Q	S	U	P	L	E	M	E	N	T	A	R	I	O	S	M



AYUDA A PHINEAS RECORTANDO ESTAS FIGURAS Y CONSTRUYENDO EL MARA RELACIONAL DE LA SIGUIENTE HOJA CON UN SENTIDO LÓGICO.

Formada por
dos líneas
con un punto
en común.

Los elementos
que lo
componen son:

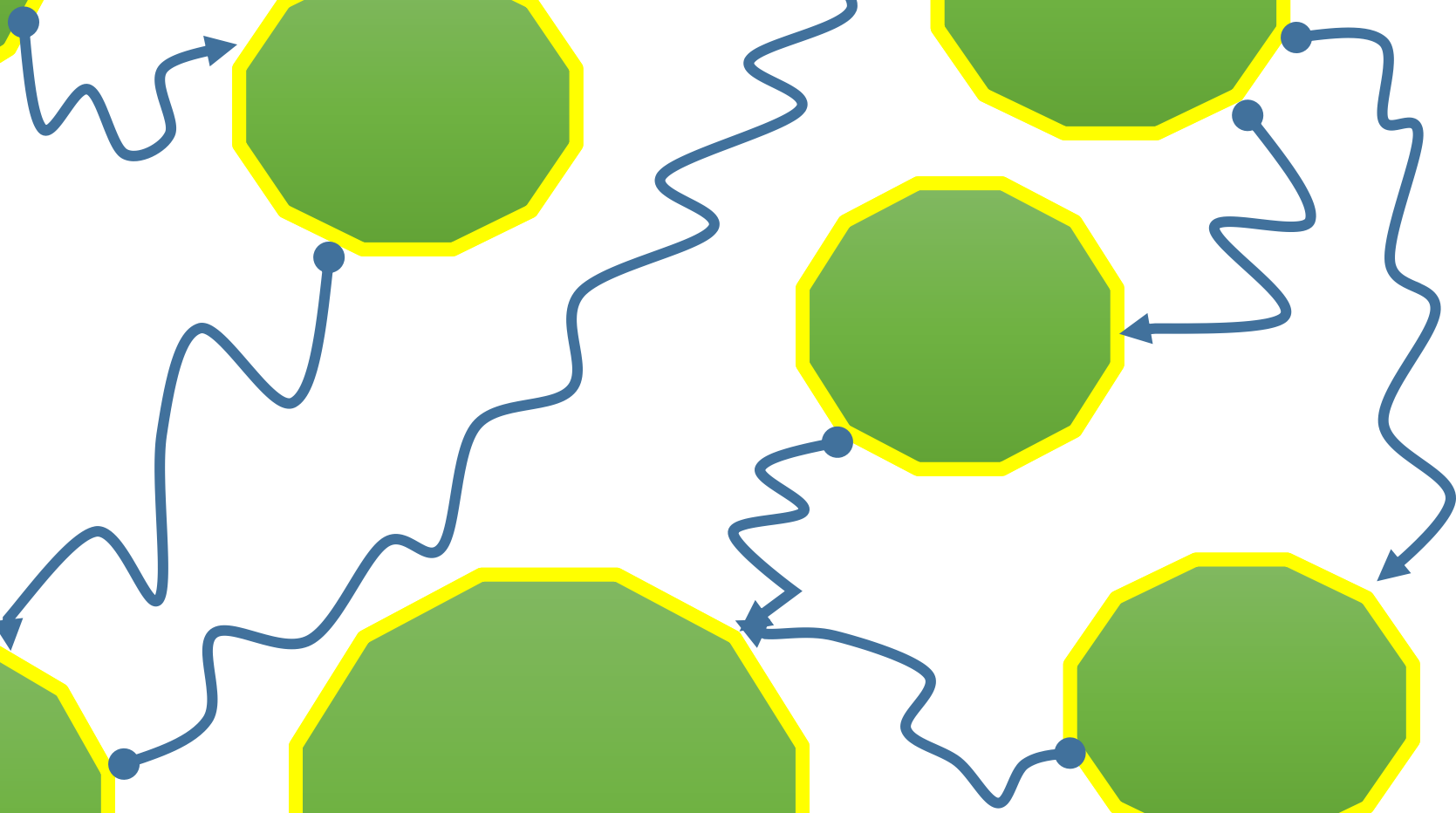
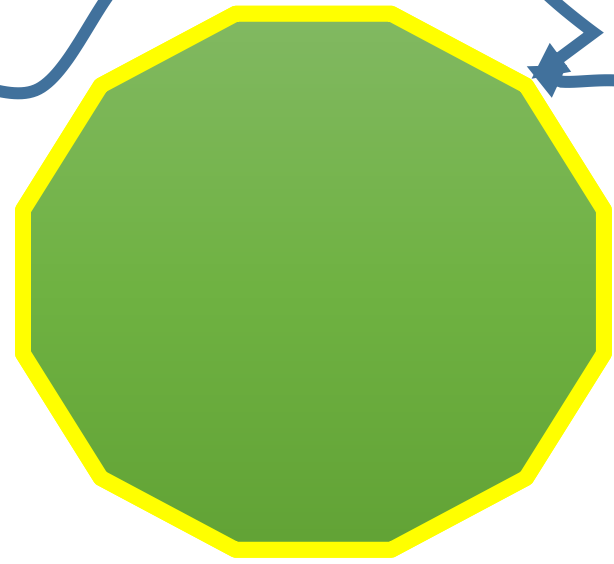

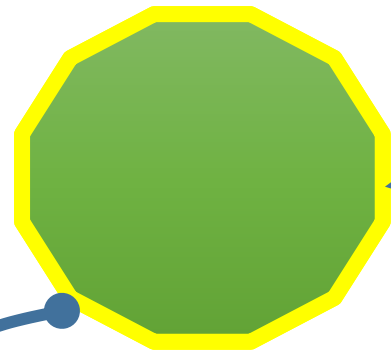






ÁNGULO

Es una
figura
geométrica

VÉRTICE:
Es el punto
en común.

LADOS:
son las
dos líneas



2. EN LOS DIBUJOS UBICA CON MICRO PUNTA AZUL LA MAYOR CANTIDAD DE PARTES DONDE CONSIDERES HAY ÁNGULOS, SEGÚN LA REPRESENTACIÓN QUE SE USA, DESPUÉS COLORÉALOS.

