

Institución Educativa

# Diversificado - Chía

"En-Ruta a la Excelencia"



ACTIVIDAD DE APOYO DE MATEMÁTICAS

SEGUNDO PERIODO

NÚMEROS ENTEROS

GRADO SEXTO

PROFESORA: INGRID CARDOZO



NOMBRE: \_\_\_\_\_

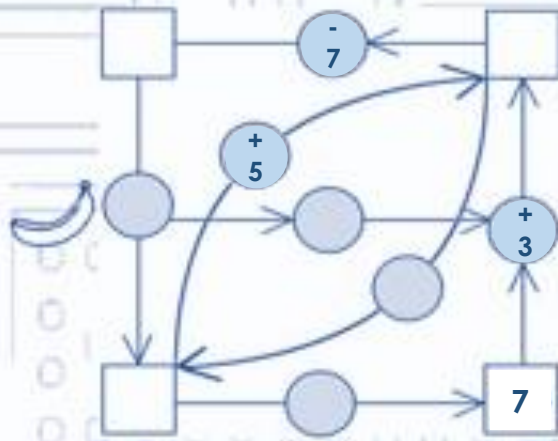
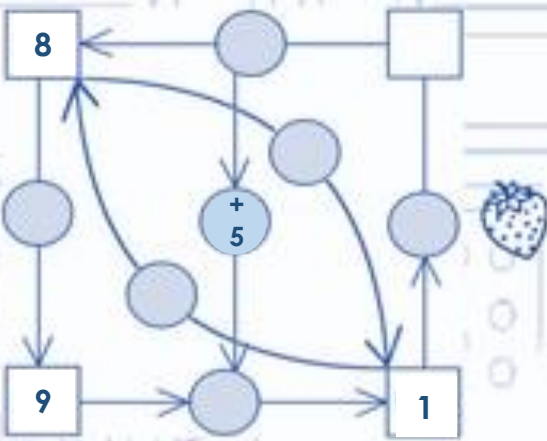
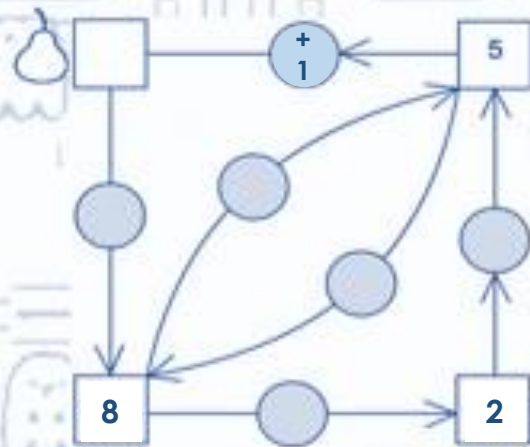
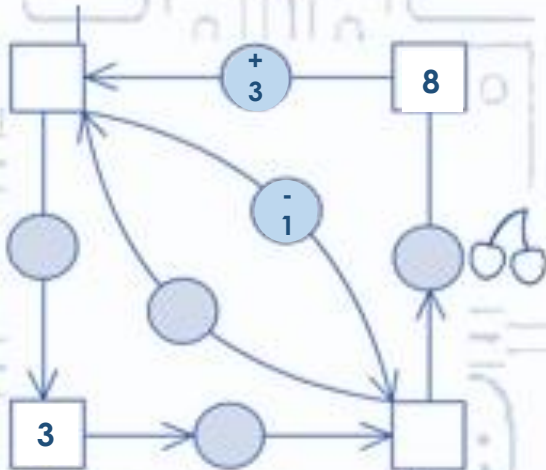
GRUPO: \_\_\_\_\_

Para superar las dificultades presentadas en el segundo periodo en matemáticas los estudiantes deben realizar lo siguiente:

1. En el portafolio decora una hoja que diga "ACTIVIDAD DE APOYO SEGUNDO PERIODO".
2. Completa y corrige las actividades 6, 7, 8, 9, 10 y 11 en las hojas cuadrículadas. Aquí se tendrá en cuenta los procesos en cada una de las operaciones.
3. Construye un mapa mental en una hoja del portafolio en el que se muestre todo lo que se ha estudiado sobre números enteros siguiendo el modelo estudiado.
4. Resuelva la evaluación de la actividad de apoyo online que se encontrará en el blog del 9 al 12 de junio al medio día.
5. Desarrolla en las hojas cuadrículadas las siguientes operaciones, sigue las flechas para descubrir la operación que debes desarrollar ten en cuenta las operaciones entre números enteros.



Si los fantasmas no resuelven los siguientes enigmas me los comeré. Además para ponerse más complicado los señalados con frutas tienen que dar el resultado final.

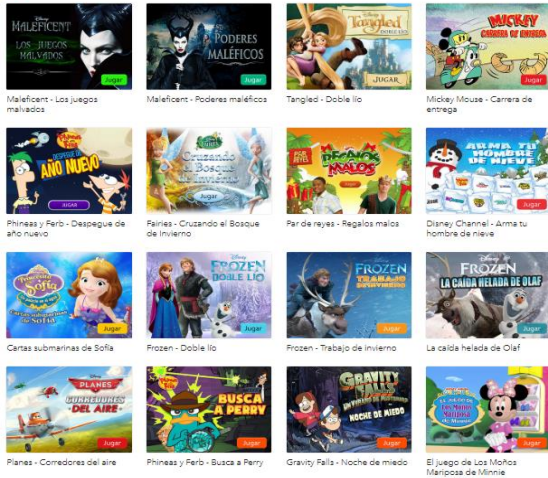


Prueba final

$$\begin{array}{ccccccc}
 \text{Pera} & - & \text{Cerezas} & + & \text{Fresa} & + & \text{Plátano} & = & 30 \\
 \text{Pera} & - & \text{Cerezas} & + & \text{Fresa} & + & \text{Plátano} & = & 30
 \end{array}$$

6. Soluciona las siguientes situaciones que se presentan en Disney Channel, dentro de sus diferentes videojuegos, realizando las operaciones en las hojas cuadriculadas del portafolio.

Más juegos




A. Cada día de la semana ingresan 3351 personas entre niños y jóvenes a jugar en los videojuegos de Disney Channel. ¿Cuántas personas habrán jugado durante toda la semana?

B. Descargaron treinta y ocho mil seiscientos cuarenta y seis App de “Gravity falls game” durante la semana, si cada uno pago 23 dólares. ¿Cuánto dinero recibió el canal en esta semana?



C. En los juegos de Stars Wars a medida que se va perdiendo en los niveles se triplican los puntos negativos. Si un jugador lleva 58 puntos negativos y sigue perdiendo batallas, ¿Cuánto puntaje lleva?

D. El juego de Phineas y Ferb es el menos descargado, si solo lo tienen 345 personas por día. ¿Qué cantidad de personas tendrán este juego en el mes de mayo?



## CALIFICACIÓN

TRABAJOS	NOTAS
PRESENTACIÓN DE ACTIVIDADES	
MAPA MENTAL	
PACMAN	
EVALUACIÓN ONLINE	
DISNEY CHANNEL	
NOTA FINAL	