

Institución Educativa

# Diversificado - Chía

"En-Ruta a la Excelencia"

ACTIVIDAD DE MATEMATICAS 15

## NÚMEROS RACIONALES

GRADO SEXTO

PROFESORA: INGRID CARDOZO



**NOMBRE:** \_\_\_\_\_

**FECHA:** \_\_\_\_\_

1. Realiza la rutina de pensamiento "veo, pienso, me pregunto"



Veo: \_\_\_\_\_

Pienso: \_\_\_\_\_

Me pregunto: \_\_\_\_\_

Veo: \_\_\_\_\_

Pienso: \_\_\_\_\_

Me pregunto: \_\_\_\_\_



Q

Veo: \_\_\_\_\_  
\_\_\_\_\_

Pienso: \_\_\_\_\_  
\_\_\_\_\_

Me pregunto: \_\_\_\_\_  
\_\_\_\_\_

Veo: \_\_\_\_\_  
\_\_\_\_\_

Pienso: \_\_\_\_\_  
\_\_\_\_\_

Me pregunto: \_\_\_\_\_  
\_\_\_\_\_



Veo: \_\_\_\_\_  
\_\_\_\_\_


Pienso: \_\_\_\_\_  
\_\_\_\_\_

Me pregunto: \_\_\_\_\_  
\_\_\_\_\_







2. Colorea las imágenes según la fracción planteada y escribe la manera en la que se lee:

$$\frac{26}{30}$$



SE LEE:




$$\frac{37}{10}$$


SE LEE:



$$\begin{array}{r} 18 \\ \hline 25 \end{array}$$



SE LEE:




$$\begin{array}{r} 2 \\ \hline 2 \end{array}$$

SE LEE:

$$\begin{array}{r} 12 \\ \hline 15 \end{array}$$

SE LEE:



3. Escribe la fracción que representa la situación planteada:

### PORCIONES DE PIZZA DE VEGETALES



Blank fraction box with a horizontal line for the numerator and a vertical line for the denominator.

### YOGURES DE FRUTOS ROJOS

Blank fraction box with a horizontal line for the numerator and a vertical line for the denominator.



### MANZANAS

Blank fraction box with a horizontal line for the numerator and a vertical line for the denominator.