



INSTITUCIÓN EDUCATIVA DIVERSIFICADO DE CHIÁ
ACTIVIDAD DE MATEMÁTICAS 5
NOCIONES GEOMÉTRICAS 2

GRADO SEXTO
PROFESORA: INGRID CARDOZO




NOMBRE: _____

CURSO: _____

1. ENCUENTRA EN LAS PALABRAS EN LAS SORAS DE LETRAS QUE PROPONE TAZ, PARA QUE ASÍ DESCUBRAS DE QUE SE TRATA LA ACTIVIDAD.

Ñ	T	X	K	E	G	O	T	Y	J	E	I	Ñ	V	L	V	W
K	R	T	J	G	Y	O	H	T	N	J	H	T	K	X	S	A
S	N	G	Y	Q	K	D	B	O	G	G	Y	P	L	S	I	G
S	O	I	H	V	X	A	C	L	S	Y	X	S	J	W	C	A
V	X	Q	G	E	S	L	N	V	L	J	K	M	L	A	H	W
G	Y	G	H	R	W	E	F	G	S	C	C	R	H	M	Ñ	D
L	F	P	W	T	A	Q	X	D	U	K	F	Ñ	D	P	H	E
M	D	J	G	I	M	D	Y	A	E	L	K	G	M	L	W	W
I	Ñ	F	N	C	Q	Q	O	P	G	Ñ	O	X	O	I	F	N
K	X	I	D	E	L	N	M	S	B	E	V	P	W	T	K	A
E	Q	K	J	S	W	J	N	S	N	Ñ	S	M	F	U	M	B
C	E	Q	A	T	M	L	S	J	W	C	B	I	X	D	C	T
V	W	G	F	C	T	O	I	T	I	V	I	Y	M	S	T	G
R	G	L	M	E	G	N	O	K	C	E	I	G	P	A	S	S
V	S	T	S	O	F	P	H	H	W	S	L	A	P	S	L	D
A	A	M	T	G	I	H	T	P	R	M	K	I	C	H	P	X
I	D	W	K	S	Q	F	J	Q	F	R	M	J	Y	F	R	Y

- ANGULO
- CONSECUTIVOS
- AMPLITUD
- COMPLEMENTARIOS
- VERTICE
- ADYACENTES
- GRADO
- LADO
- OPUESTOS
- SEXAGESIMAL
- SUPLEMENTARIOS



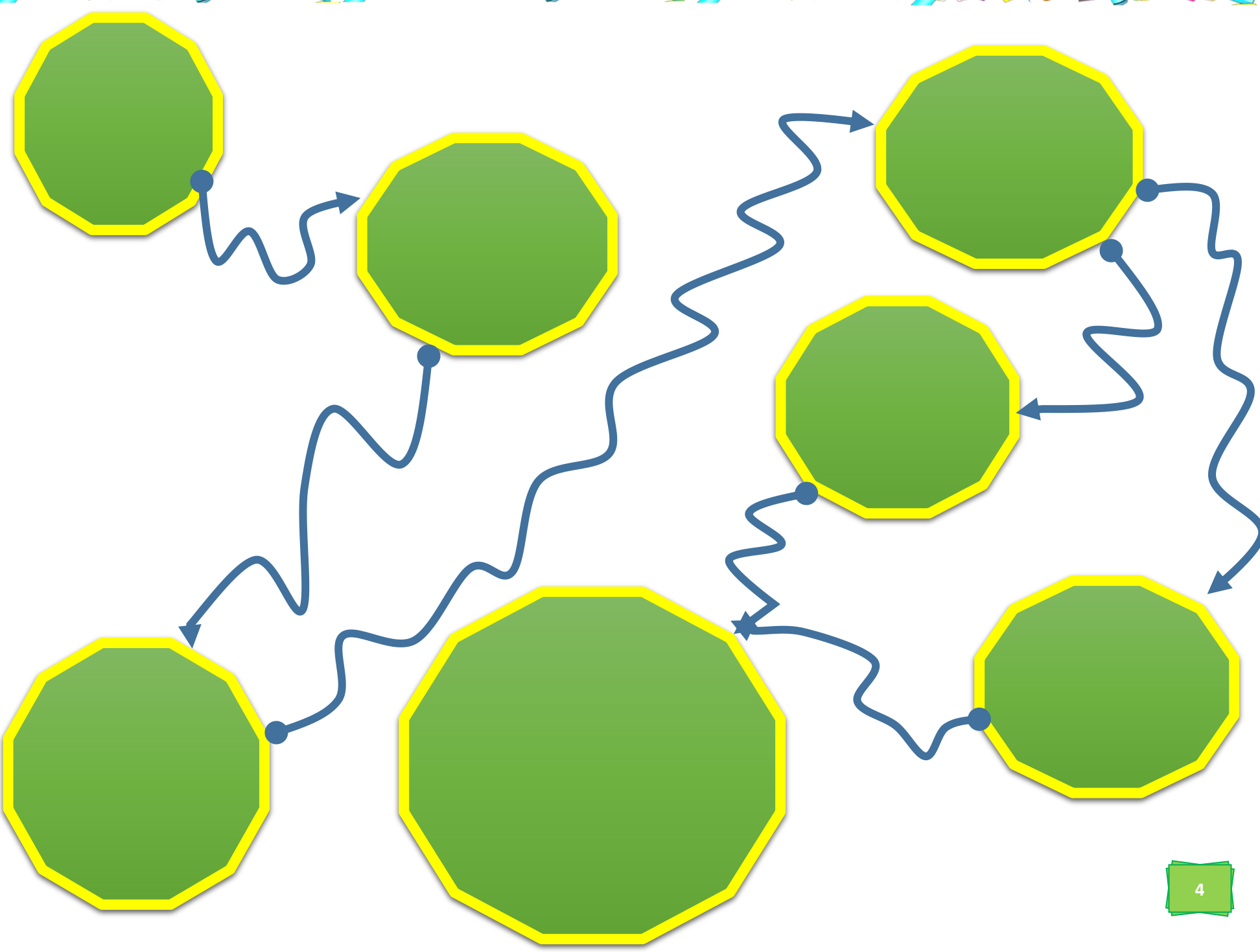

I	Y	Ñ	S	X	J	I	O	G	W	N	S	A	M	T	W	R
R	C	H	I	O	M	S	A	A	X	P	W	V	D	N	E	L
S	X	I	N	H	V	F	P	Ñ	B	V	J	D	X	K	B	V
S	O	I	N	X	E	I	P	P	A	G	A	A	F	D	D	N
X	F	T	B	M	H	D	T	N	S	S	Ñ	L	M	M	S	I
I	F	H	S	Q	E	W	J	U	J	K	I	W	V	E	E	J
S	X	P	E	E	B	T	G	R	C	I	L	I	V	K	T	B
A	G	P	M	M	U	F	G	Q	O	E	E	D	D	W	N	V
W	J	R	P	R	P	P	A	W	B	S	S	Ñ	H	W	E	F
C	A	B	P	K	V	G	O	E	E	R	F	N	G	S	C	S
E	W	M	F	Q	D	B	A	F	C	P	P	N	O	H	A	L
X	G	T	G	V	R	Ñ	Y	H	K	N	M	B	N	C	Y	M
N	Y	N	O	Y	K	J	T	P	Ñ	Ñ	O	W	Q	T	D	S
N	J	Ñ	Y	X	D	E	N	Q	B	F	G	T	Ñ	D	A	X
S	O	I	R	A	T	N	E	M	E	L	P	M	O	C	A	T
L	H	Y	Ñ	Q	R	P	Ñ	S	Y	A	L	O	N	G	L	A
B	Q	S	U	P	L	E	M	E	N	T	A	R	I	O	S	M

2. SEÑALA EN LAS IMÁGENES CON VERDE LAS LÍNEAS PARALELAS, MORADO PERPENDICULARES, NEGRO ÁNGULOS AGUDOS, ROJO ÁNGULOS RECTOS, CAFÉ ÁNGULOS OBTUSOS, VERDE OSCURO ÁNGULOS LLANOS.



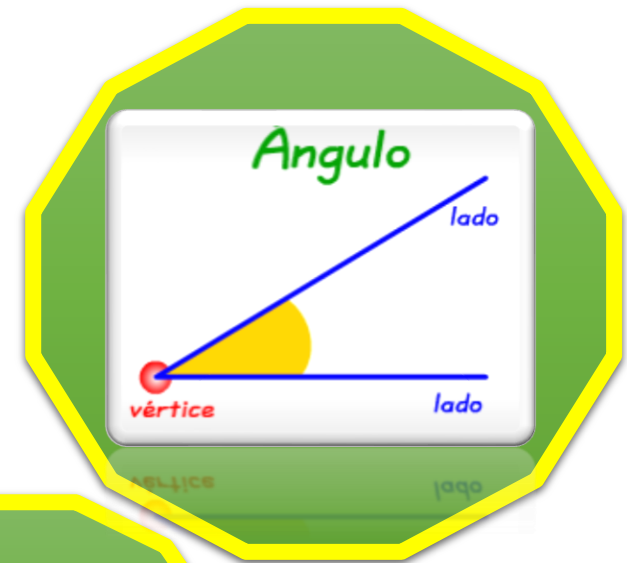


3. COMPLETA EL ESQUEMA CON LA DEFINICIÓN DE ÁNGULOS DÁNDOLE UN SENTIDO LÓGICO, PARA ESO RECORTA LAS PARTES DE LA HOJA 5.



Formada por
dos líneas
con un punto
en común.

Los elementos
que lo
componen son:



ÁNGULO

Es una
figura
geométrica

VÉRTICE:
Es el punto
en común.

LADOS:
son las
dos líneas